

**Examen de Matemáticas Aplicadas a las
CC. Sociales II (Modelo 2021)
Selectividad-Opción A**
Tiempo: 90 minutos

Problema 1 (2 puntos) Se consideran las matrices A y B dadas por

$$A = \begin{pmatrix} 1 & 0 & 0 \\ a & 1 & 0 \\ b & c & 1 \end{pmatrix}, \quad B = \begin{pmatrix} 0 & 0 & 0 \\ 1 & 0 & 0 \\ 1 & 1 & 0 \end{pmatrix}$$

- a) Determine los valores de los parámetros reales a , b y c para que se verifique $A^2 = A - B$.
- b) Para $a = b = c = 2$, estudie si la matriz A es invertible y, en caso afirmativo, calcule su inversa.

Solución:

$$\text{a) } A^2 = A \cdot A = \begin{pmatrix} 1 & 0 & 0 \\ a & 1 & 0 \\ b & c & 1 \end{pmatrix} \begin{pmatrix} 1 & 0 & 0 \\ a & 1 & 0 \\ b & c & 1 \end{pmatrix} = \begin{pmatrix} 1 & 0 & 0 \\ 2a & 1 & 0 \\ ac + 2b & 2c & 1 \end{pmatrix}$$

$$A - B = \begin{pmatrix} 1 & 0 & 0 \\ a & 1 & 0 \\ b & c & 1 \end{pmatrix} - \begin{pmatrix} 0 & 0 & 0 \\ 1 & 0 & 0 \\ 1 & 1 & 0 \end{pmatrix} = \begin{pmatrix} 1 & 0 & 0 \\ a - 1 & 1 & 0 \\ b - 1 & c - 1 & 1 \end{pmatrix}$$

$$\begin{pmatrix} 1 & 0 & 0 \\ 2a & 1 & 0 \\ ac + 2b & 2c & 1 \end{pmatrix} = \begin{pmatrix} 1 & 0 & 0 \\ a - 1 & 1 & 0 \\ b - 1 & c - 1 & 1 \end{pmatrix} \implies$$

$$\begin{cases} 2a = a - 1 \\ ac + 2b = b - 1 \\ 2c = c - 1 \end{cases} \implies \begin{cases} a = -1 \\ b = -2 \\ c = -1 \end{cases}$$

$$\text{b) Para } a = b = c = 2 \implies A = \begin{pmatrix} 1 & 0 & 0 \\ 2 & 1 & 0 \\ 2 & 2 & 1 \end{pmatrix} \text{ y } |A| = 1 \neq 0 \implies \exists A^{-1}.$$

$$A^{-1} = \begin{pmatrix} 1 & 0 & 0 \\ -2 & 1 & 0 \\ 2 & -2 & 1 \end{pmatrix}$$

Problema 2 (2 puntos) Se considera la función real de variable real $f(x)$ definida por

$$f(x) = ax^2 + bx + c$$

- a) Obtenga los coeficientes reales a , b y c , de $f(x)$ sabiendo que la función tiene un extremo relativo en el punto de abscisa $x = -3$ y que la ecuación de la recta tangente a la gráfica de $f(x)$ en el punto de abscisa $x = 0$ es $y = 6x + 8$.

b) Para $a = 2$, $b = 1$ y $c = 1$, calcule la integral $\int_1^e \frac{f(x)}{x} dx$.

Solución:

$$f(x) = ax^2 + bx + c \implies f'(x) = 2ax + b, \quad y = 6x + 8$$

$$\text{a) } \begin{cases} f'(-3) = 0 \implies -6a + b = 0 \\ m = f'(0) = 6 \implies b = 6 \\ f(0) = 6 \cdot 0 + 8 = 8 \implies c = 8 \end{cases} \implies \begin{cases} a = 1 \\ b = 6 \\ c = 8 \end{cases} \implies$$

$$f(x) = x^2 + 6x + 8$$

b) Si $a = 2$, $b = 1$ y $c = 1 \implies f(x) = 2x^2 + x + 1$:

$$\begin{aligned} \int_1^e \frac{f(x)}{x} dx &= \int_1^e \frac{2x^2 + x + 1}{x} dx = \int_1^e \left(2x + 1 + \frac{1}{x} \right) dx = \\ &= [x^2 + x + \ln x]_1^e = e^2 + e - 1 \simeq 9,107 \end{aligned}$$

Problema 3 (2 puntos) Dada la función $f(x) = x + \frac{4}{x^2}$

- Halle el dominio de la función y sus asíntotas.
- Determine los intervalos de crecimiento y decrecimiento de la función y, si los hubiera, sus extremos relativos.

Solución:

$$f(x) = x + \frac{4}{x^2} = \frac{x^3 + 4}{x^2}$$

- $\text{Dom}(f) = \mathbb{R} - \{0\}$.
Asíntotas:

■ Verticales:

En $x = 0$:

$$\begin{cases} \lim_{x \rightarrow 0^-} \frac{x^3 + 4}{x^2} = \left[\frac{4}{0^+} \right] = +\infty \\ \lim_{x \rightarrow 0^+} \frac{x^3 + 4}{x^2} = \left[\frac{4}{0^+} \right] = +\infty \end{cases}$$

■ Horizontales: No hay.

$$\lim_{x \rightarrow \infty} \frac{x^3 + 4}{x^2} = \infty \quad \lim_{x \rightarrow -\infty} \frac{x^3 + 4}{x^2} = -\infty$$

- Oblicuas: $y = mx + n$:

$$m = \lim_{x \rightarrow \infty} \frac{f(x)}{x} = \lim_{x \rightarrow \infty} \frac{x^3 + 4}{x^3} = 1$$

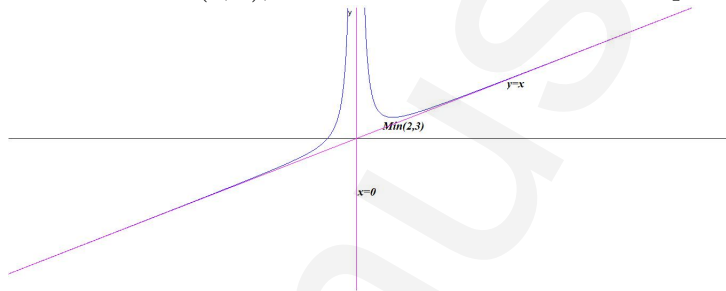
$$n = \lim_{x \rightarrow \infty} (f(x) - mx) = \lim_{x \rightarrow \infty} \left(\frac{x^3 + 4}{x^2} - x \right) =$$

$$\lim_{x \rightarrow \infty} \frac{x^3 + 4 - x^3}{x^2} = 0 \implies y = x$$

$$b) f'(x) = \frac{x^3 - 8}{x^3} = 0 \implies x = 2$$

	$(-\infty, 0)$	$(0, 2)$	$(2, +\infty)$
$f'(x)$	+	-	+
$f(x)$	creciente ↗	decreciente ↘	creciente ↗

La función es creciente en el intervalo $(-\infty, 0) \cup (2, \infty)$, y decreciente en el intervalo $(0, 2)$, tiene un mínimo relativo en el punto $(2, 3)$.



Problema 4 (2 puntos) En un mercado agropecuario el 70% de las verduras que se comercializan son de proximidad y el resto no. El 30% de las verduras de proximidad son ecológicas, mientras que de las que no son de proximidad, solo son ecológicas el 10%. Si un cliente elegido al azar ha realizado una compra de una verdura, calcule las siguientes probabilidades:

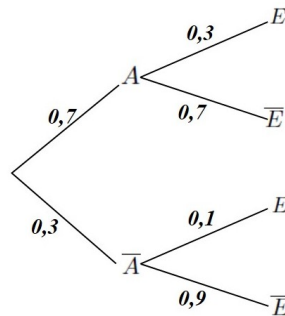
- Probabilidad de que la verdura comprada no sea ecológica.
- Probabilidad de que la verdura sea de proximidad o ecológica.

Solución:

A : proximidad, \bar{A} : no proximidad, E : ecológica y \bar{E} : no ecológica.

$$a) P(\bar{E}) = P(\bar{E}|A)P(A) + P(\bar{E}|\bar{A})P(\bar{A}) = 0,7 \cdot 0,7 + 0,9 \cdot 0,3 = 0,76$$

$$b) P(A \cup E) = P(A) + P(E) - P(A \cap E) = P(A) + (1 - P(\bar{E})) - P(E|A)P(A) = 0,7 + 1 - 0,76 - 0,3 \cdot 0,7 = 0,73$$



Problema 5 (2 puntos) El número de kilómetros que un corredor entrena a la semana mientras prepara una carrera popular se puede aproximar por una variable aleatoria de distribución normal de media μ horas y desviación típica $\sigma = 10$ horas

- Se toma una muestra aleatoria simple de 20 atletas, obteniéndose una media muestral de 30 kilómetros. Determine un intervalo de confianza al 95 % para μ .
- Suponga que $\mu = 28$ kilómetros. Calcule la probabilidad de que al tomar una muestra aleatoria simple de 10 atletas, la media muestral, \bar{X} , esté entre 28 y 30 kilómetros.

Solución:

$$N(\mu; 10)$$

- a) $n = 20$, $\bar{X} = 30$ y $NC = 95\% \implies z_{\alpha/2} = 1,96$

$$E = z_{\alpha/2} \frac{\sigma}{\sqrt{n}} = 1,96 \frac{10}{\sqrt{20}} = 4,383$$

$$IC = (\bar{X} - E, \bar{X} + E) = (30 - 4,383; 30 + 4,383) = (25,617; 34,383)$$

- b) $\mu = 28$ y $n = 10$:

$$P(28 \leq \bar{X} \leq 30) = P\left(\frac{28 - 28}{10/\sqrt{10}} \leq \bar{X} \leq \frac{30 - 28}{10/\sqrt{10}}\right) =$$

$$P(0 \leq Z \leq 0,63) = P(Z \leq 0,63) - P(Z \leq 0) = 0,7357 - 0,5 = 0,2357$$

**Examen de Matemáticas Aplicadas a las
CC. Sociales II (Modelo 2021)
Selectividad-Opción B**

Tiempo: 90 minutos

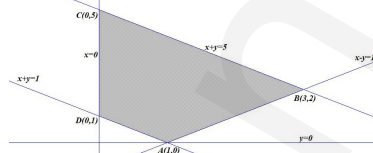
Problema 1 (2 puntos) Un agricultor dispone de 5 hectáreas, como máximo, de terreno para dedicar a la plantación de trigo y cebada. Cada hectárea dedicada al trigo le supone un beneficio de 200 euros, mientras que cada hectárea dedicada a la cebada le supone un beneficio de 60 euros. Entre ambos cultivos es obligatorio plantar como mínimo una hectárea, y la normativa autonómica le obliga a que el cultivo de trigo ocupe como mucho una hectárea más que el de cebada. Represente la región factible, determine las hectáreas que debería dedicar a cada cultivo para maximizar sus beneficios y obtenga el valor del beneficio máximo.

Solución:

Sea x : n° de Ha de trigo e y : n° de Ha de cebada.

La región factible es:

$$\begin{cases} x + y \leq 5 \\ x + y \geq 1 \\ x - y \leq 1 \\ x, y \geq 0 \end{cases}$$



Los vértices a estudiar serán: $A(1,0)$, $B(3,2)$, $C(0,5)$ y $D(0,1)$

La función objetivo es $f(x, y) = 200x + 60y \implies$

$$\begin{cases} f(1,0) = 200 \\ f(3,2) = 720 \\ f(0,5) = 300 \\ f(0,1) = 60 \end{cases} \implies \text{El máximo beneficio será de 720 euros que se}$$

obtiene plantando 3 Ha de trigo y 2 Ha de cebada.

Problema 2 (2 puntos) Se considera el siguiente sistema de ecuaciones lineales dependiente del parámetro real a :

$$\begin{cases} x + y + z = 2a - 1 \\ 2x + y + az = 1 \\ x + ay + z = 1 \end{cases}$$

- a) Discuta el sistema en función de los valores del parámetro a .
- b) Resuelva el sistema de ecuaciones para $a = 0$.

Solución:

a)

$$\bar{A} = \left(\begin{array}{ccc|c} 1 & 1 & 1 & 2a-1 \\ 2 & 1 & a & 1 \\ 1 & a & 1 & 1 \end{array} \right); \quad |A| = -a^2 + 3a - 2 = 0 \implies a = 1, \quad a = 2$$

- Si $a \in \mathbb{R} - \{1, 2\} \implies |A| \neq 0 \implies \text{Rango}(A) = 3 = \text{Rango}(\bar{A}) =$ n° de incógnitas y el sistema es compatible determinado. (Solución única)
- Si $a = 1$:

$$\bar{A} = \left(\begin{array}{ccc|c} 1 & 1 & 1 & 1 \\ 2 & 1 & 1 & 1 \\ 1 & 1 & 1 & 1 \end{array} \right) = \begin{bmatrix} F_1 \\ F_2 - 2F_1 \\ F_3 - F_1 \end{bmatrix} = \left(\begin{array}{ccc|c} 1 & 1 & 1 & 1 \\ 0 & -1 & -1 & -1 \\ 0 & 0 & 0 & 0 \end{array} \right) \implies$$

Sistema compatible indeterminado

- Si $a = 2$:

$$\bar{A} = \left(\begin{array}{ccc|c} 1 & 1 & 1 & 3 \\ 2 & 1 & 2 & 1 \\ 1 & 2 & 1 & 1 \end{array} \right) = \left[\begin{array}{c} F_1 \\ F_2 - 2F_1 \\ F_3 - F_1 \end{array} \right] = \left(\begin{array}{ccc|c} 1 & 1 & 1 & 3 \\ 0 & -1 & 0 & -5 \\ 0 & 1 & 0 & -2 \end{array} \right) =$$

$$\left[\begin{array}{c} F_1 \\ F_2 \\ F_3 + F_2 \end{array} \right] = \left(\begin{array}{ccc|c} 1 & 1 & 1 & 3 \\ 0 & -1 & 0 & -5 \\ 0 & 0 & 0 & -7 \end{array} \right) \Rightarrow$$

Sistema Incompatible

- b) Si $a = 0$:

$$\begin{cases} x + y + z = -1 \\ 2x + y = 1 \\ x + z = 1 \end{cases} \Rightarrow \begin{cases} x = 3/2 \\ y = -2 \\ z = -1/2 \end{cases}$$

Problema 3 (2 puntos) Se considera la función real de variable real definida por

$$f(x) = \begin{cases} x^2 + ax - \frac{1}{9} & \text{si } x \leq 0 \\ \frac{x+1}{x^2-9} & \text{si } x > 0 \end{cases}$$

- a) Determine el dominio de $f(x)$ y calcule el valor del parámetro $a \in \mathbb{R}$ para que $f(x)$ sea derivable en todo su dominio.
- b) Para $a = 0$ determine, si existen, las asíntotas de $f(x)$.

Solución:

- a) Estudiamos la continuidad en $x = 0$

$$\left\{ \begin{array}{l} \lim_{x \rightarrow 0^-} f(x) = \lim_{x \rightarrow 0^-} \left(x^2 + ax - \frac{1}{9} \right) = -\frac{1}{9} \\ \lim_{x \rightarrow 0^+} f(x) = \lim_{x \rightarrow 0^+} \frac{x+1}{x^2-9} = -\frac{1}{9} \\ f(0) = -\frac{1}{9} \end{array} \right. \Rightarrow$$

La función es continua en $x = 0$ pero no lo es en $x = 3 \Rightarrow \text{Dom}(f) = \mathbb{R} - \{3\}$.

Estudiamos la derivabilidad en $x = 0$, que es el único punto del dominio en el que hay duda.

$$f'(x) = \begin{cases} 2x + a & \text{si } x \leq 0 \\ -\frac{x^2 + 2x + 9}{(x^2 - 9)^2} & \text{si } x > 0 \end{cases}$$

Tenemos que $f'(0^-) = a$ y $f'(0^+) = -\frac{1}{9} \implies a = -\frac{1}{9}$. Para este valor la función sería derivable en todo el dominio de la función $\text{Dom}(f) = \mathbb{R} - \{3\}$.

$$\text{b) } f(x) = \begin{cases} x^2 - \frac{1}{9} & \text{si } x \leq 0 \\ \frac{x+1}{x^2-9} & \text{si } x > 0 \end{cases}$$

Asíntotas:

En la rama $x \leq 0$ no hay asíntotas, se trata de un polinomio.

En la rama $x > 0$

- Verticales:

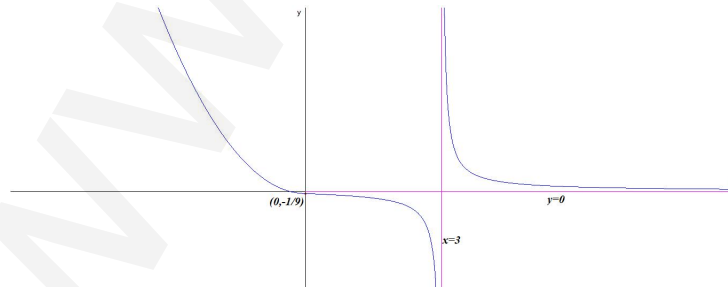
En $x = 3$:

$$\begin{cases} \lim_{x \rightarrow 3^-} \frac{x+1}{x^2-9} = \left[\frac{4}{0^-} \right] = -\infty \\ \lim_{x \rightarrow 3^+} \frac{x+1}{x^2-9} = \left[\frac{4}{0^+} \right] = +\infty \end{cases}$$

- Horizontales: $y = 0$.

$$\lim_{x \rightarrow \infty} \frac{x+1}{x^2-9} = 0$$

- Oblicuas: No hay por haber horizontales.



Problema 4 (2 puntos) Sean C y D dos sucesos de un experimento aleatorio tales que $P(C) = 0,4$, $P(D) = 0,6$ y $P(C \cup D) = 0,8$. Calcule:

a) $P(C|D)$.

b) $P(\overline{C \cap D}|C)$.

Solución:

$$\text{a) } P(C|D) = \frac{P(C \cap D)}{P(D)} = \frac{P(C) + P(D) - P(C \cup D)}{P(D)} = \frac{0,4 + 0,6 - 0,8}{0,6} = \frac{1}{3} = 0,333$$

$$\text{b) } P(\overline{C \cap D}|C) = \frac{P(\overline{C \cap D} \cap C)}{P(C)} = \frac{P(C) - P(C \cap D)}{P(C)} = \frac{0,4 - 0,2}{0,4} = \frac{1}{2} = 0,5$$

Problema 5 (2 puntos) Las calorías consumidas por un atleta durante una carrera popular se pueden aproximar por una variable aleatoria con distribución normal de media μ calorías y desviación típica $\sigma = 300$ calorías.

- a) Determine el tamaño mínimo que debe tener una muestra aleatoria simple para que el error máximo cometido en la estimación de μ sea menor de 100 calorías con un nivel de confianza del 95 %.
- b) Suponga que $\mu = 3000$ calorías. Calcule la probabilidad de que al tomar una muestra aleatoria simple de tamaño $n = 50$ atletas, la media de las calorías consumidas durante la carrera por los 50 atletas sea mayor que 2700 calorías.

Solución:

$$N(\mu; 300)$$

a) $E = 100, NC = 95\% \implies z_{\alpha/2} = 1,96$

$$E = z_{\alpha/2} \frac{\sigma}{\sqrt{n}} = 1,96 \frac{300}{\sqrt{n}} = 100 \implies n \geq \left(\frac{1,96 \cdot 300}{100} \right)^2 = 34,5744$$

Luego $n = 35$.

b) $\mu = 3000$ y $n = 50$

$$P(\bar{X} \geq 2700) = P\left(\bar{X} \geq \frac{2700 - 3000}{300/\sqrt{50}}\right) =$$

$$P(Z \geq -7,07) = 1 - P(Z \leq -7,07) = 1 - (1 - P(Z \leq 7,07)) = 1 - (1 - 1) = 1$$