

Examen de Matemáticas 2º Bachillerato (CS)

Abril 2012

Problema 1 Se considera la función

$$f(x) = \begin{cases} x^2 + 1 & \text{si } x \leq -1 \\ -2x & \text{si } -1 < x < 1 \\ x^2 - 3 & \text{si } 1 < x \leq 2 \\ x + 1 & \text{si } x > 2 \end{cases}$$

se pide:

1. Estudia su continuidad en los puntos de abscisa $x = -1$, $x = 1$ y $x = 2$.
2. Representála gráficamente de forma aproximada.

Solución:

1. Continuidad en $x = -1$:

$$\lim_{x \rightarrow -1^-} f(x) = \lim_{x \rightarrow -1^-} (x^2 + 1) = 2$$

$$\lim_{x \rightarrow -1^+} f(x) = \lim_{x \rightarrow -1^+} (-2x) = 2$$

$$f(-1) = 2$$

En $x = -1$ la función es continua.

Continuidad en $x = 1$:

$$\lim_{x \rightarrow 1^-} f(x) = \lim_{x \rightarrow 1^-} (-2x) = -2$$

$$\lim_{x \rightarrow 1^+} f(x) = \lim_{x \rightarrow 1^+} (x^2 - 3) = -2$$

$$f(1) = \text{no existe}$$

En $x = 1$ hay una discontinuidad evitable (agujero).

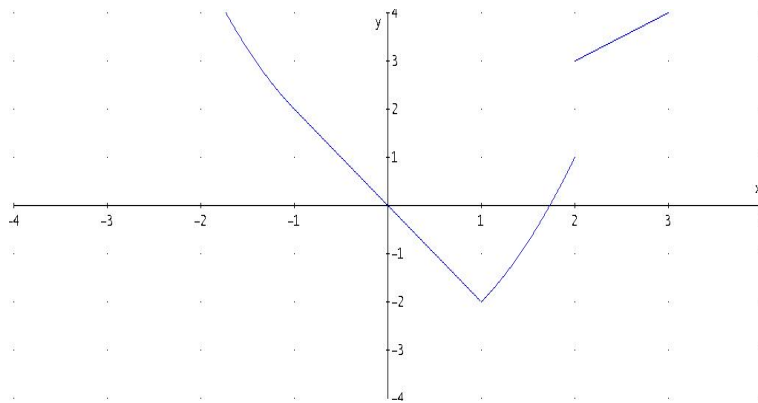
Continuidad en $x = 2$:

$$\lim_{x \rightarrow 2^-} f(x) = \lim_{x \rightarrow 2^-} (x^2 - 3) = 1$$

$$\lim_{x \rightarrow 2^+} f(x) = \lim_{x \rightarrow 2^+} (x + 1) = 3$$

En $x = 2$ hay una discontinuidad no evitable (salto).

2. Gráficamente:



Problema 2 Encontrar el valor de los parámetros a y b para que la función

$$f(x) = \begin{cases} 2ax^2 - bx + 1 & \text{si } x \leq 1 \\ ax^2 - 3bx + 2 & \text{si } x > 1 \end{cases}$$

sea continua y derivable.

Solución:

Continuidad en $x = 1$:

$$\lim_{x \rightarrow 1^-} f(x) = \lim_{x \rightarrow 1^-} (2ax^2 - bx + 1) = 2a - b + 1$$

$$\lim_{x \rightarrow 1^+} f(x) = \lim_{x \rightarrow 1^+} (ax^2 - 3bx + 2) = a - 3b + 2$$

$$2a - b + 1 = a - 3b + 2 \implies a + 2b - 1 = 0$$

Derivabilidad en $x = 1$:

$$f(x) = \begin{cases} 4ax - b & \text{si } x \leq 1 \\ 2ax - 3b & \text{si } x > 1 \end{cases} \implies \begin{cases} f'(1^-) = 4a - b \\ f'(1^+) = 2a - 3b \end{cases} \implies 4a - b = 2a - 3b \implies a + b = 0$$

$$\begin{cases} a + 2b = 1 \\ a + b = 0 \end{cases} \implies \begin{cases} a = -1 \\ b = 1 \end{cases}$$

Problema 3 Calcular los números reales a , b y c de la función $f(x) = ax^2 + bx + c$, sabiendo que esta función pasa por el punto $(0, 4)$ y tiene un extremo en el punto $(1, 5)$.

Solución:

$$f(x) = ax^2 + bx + c, \quad f'(x) = 2ax + b$$

$$\begin{cases} f(0) = 4 \implies c = 4 \\ f(1) = 5 \implies a + b + c = 5 \\ f'(1) = 0 \implies 2a + b = 0 \end{cases} \implies \begin{cases} a = -1 \\ b = 2 \\ c = 4 \end{cases}$$

$$f(x) = -x^2 + 2x + 4$$

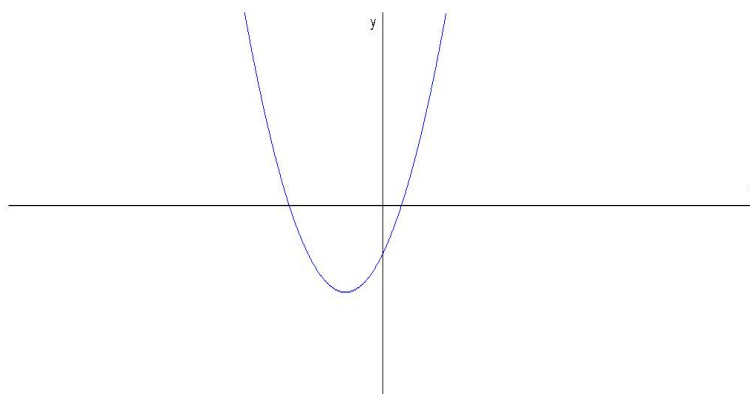
Problema 4 Analizar gráficamente la continuidad y la derivabilidad de la función $f(x) = |x^2 + 4x - 5|$

Solución:

$$f(x) = \begin{cases} -(x^2 + 4x - 5) & \text{si } x^2 + 4x - 5 \leq 0 \\ x^2 + 4x - 5 & \text{si } x^2 + 4x - 5 > 0 \end{cases}$$

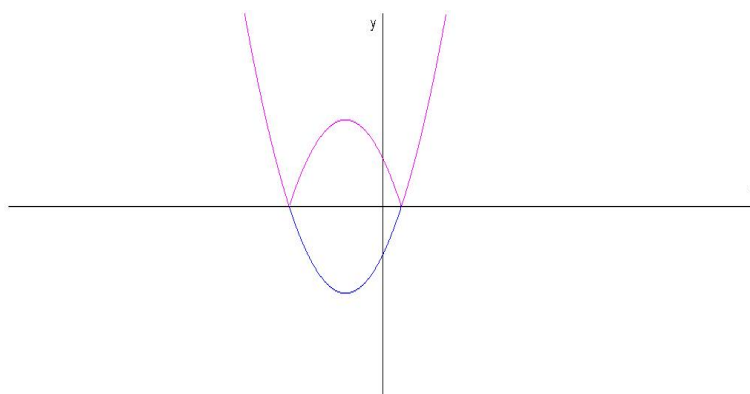
Dibujamos la gráfica de la función auxiliar $g(x) = x^2 + 4x - 5$:

Esta función corta a los ejes en los puntos $(0, -5)$, $(-5, 0)$ y $(1, 0)$. Y tiene un mínimo en $(-2, -9)$



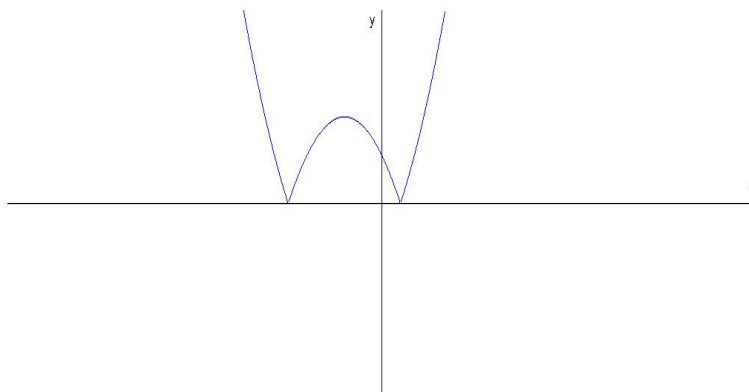
La función $f(x) = |g(x)|$ convertirá la parte negativa de $g(x)$ en positiva:

Esta función corta a los ejes en los puntos $(0, 5)$, $(-5, 0)$ y $(1, 0)$. Y tiene



un máximo en $(-2, 9)$

En conclusión:

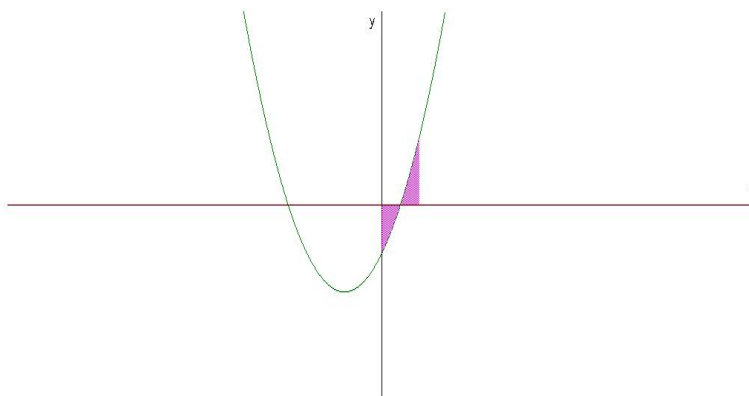


$$f(x) = \begin{cases} g(x) & \text{si } x \leq -5 \\ -g(x) & \text{si } -5 < x \leq 1 \\ g(x) & \text{si } x > 1 \end{cases} = \begin{cases} x^2 + 4x - 5 & \text{si } x \leq -5 \\ -(x^2 + 4x - 5) & \text{si } -5 < x \leq 1 \\ x^2 + 4x - 5 & \text{si } x > 1 \end{cases}$$

A la vista de la gráfica está claro que que la función f es continua en \mathbb{R} y derivable en $\mathbb{R} - \{-5, 1\}$. La función no es derivable en $x = -5$ y en $x = 1$ porque en ellos podríamos trazar infinitas tangentes (hay picos).

Problema 5 Calcular el área encerrada por la gráfica de $f(x) = x^2 + 4x - 5$ el eje OX y las rectas $x = 0$ y $x = 2$

Solución:



$$S_1 = \int_0^1 (x^2 + 4x - 5) dx = \left[\frac{x^3}{3} + 2x^2 - 5x \right]_0^1 = -\frac{8}{3}$$

$$S_2 = \int_1^2 (x^2 + 4x - 5) dx = \left[\frac{x^3}{3} + 2x^2 - 5x \right]_1^2 = -\frac{10}{3}$$

$$S = |S_1| + |S_2| = \frac{18}{3} = 6 u^2$$