

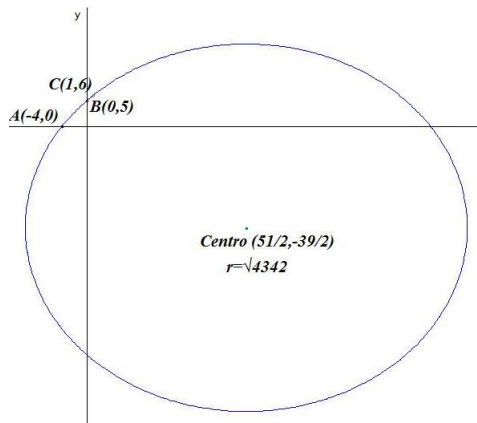
Examen de Matemáticas 1º de Bachillerato

Marzo 2020

Problema 1 Calcular la ecuación de una circunferencia que pasa por los puntos $A(-4, 0)$, $B(0, 5)$ y $C(1, 6)$. Obtener su centro, su radio.

Solución:

$$\begin{aligned} x^2 + y^2 + mx + ny + p &= 0 \\ \begin{cases} -4m + p = -16 \\ 5n + p = -25 \\ m + 6n + p = -37 \end{cases} &\implies \begin{cases} m = -51 \\ n = 39 \\ p = -220 \end{cases} \implies \\ x^2 + y^2 - 51x + 39y - 220 &= 0 \\ \begin{cases} m = -2a = -51 \implies a = 51/2 \\ n = -2b = 39 \implies b = -39/2 \\ p = -220 = a^2 + b^2 - r^2 \implies r = \sqrt{4342} \end{cases} &\implies \\ \text{Centro} = \left(\frac{51}{2}, -\frac{39}{2} \right), r = \sqrt{4342} & \end{aligned}$$

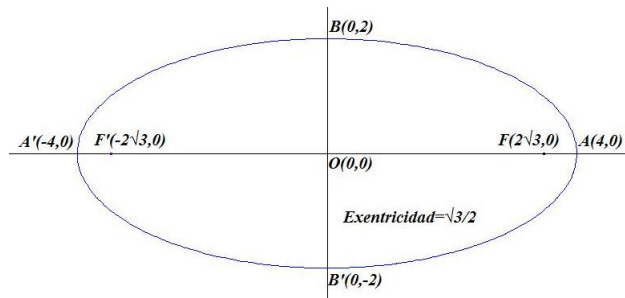


Problema 2 Sea $\frac{x^2}{16} + \frac{y^2}{4} = 1$ la ecuación de una elipse horizontal centrada en el origen de coordenadas. Encontrar todos los datos que la definen y su ecuación general.

Solución:

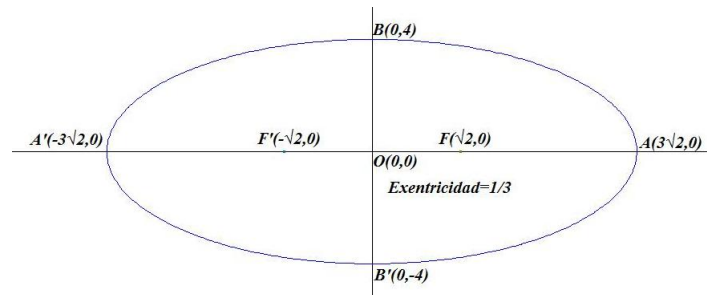
$$\begin{aligned} a^2 = 16 &\implies a = 4, \quad b^2 = 4 \implies b = 2 \\ a^2 = b^2 + c^2 &\implies c = 2\sqrt{3} \quad e = \frac{c}{a} = \frac{\sqrt{3}}{2} \end{aligned}$$

Eje Mayor= $2a = 8$
 Eje Menor= $2b = 4$
 Distancia Focal= $2c = 4\sqrt{3}$
 Excentricidad= $e = \frac{\sqrt{3}}{2}$
 Vértices: $A(4,0)$, $A'(-4,0)$, $B(0,2)$, $B(0,-2)$
 Focos: $F(2\sqrt{3},0)$, $F'(-2\sqrt{3},0)$
 Ecuación general: $x^2 + 4y^2 = 16$



Problema 3 De una elipse horizontal conocemos su eje menor que mide 8 cm y tiene una excentricidad $e = \frac{1}{3}$. Calcular los datos que la definen y su ecuación general.

Solución:



$$e = \frac{c}{a} = \frac{1}{3} \implies a = 3c$$

$$a^2 = b^2 + c^2 \implies 9c^2 = 16 + c^2 \implies c = \sqrt{2}$$

$$a = 3c = 3\sqrt{2}$$

Eje Mayor= $2a = 6\sqrt{2}$
 Eje Menor= $2b = 8$
 Distancia Focal= $2c = 2\sqrt{2}$
 Excentricidad= $e = \frac{1}{3}$

Vértices: $A(3\sqrt{2}, 0)$, $A'(-3\sqrt{2}, 0)$, $B(0, 4)$, $B'(0, -4)$

Focos: $F(\sqrt{2}, 0)$, $F'(-\sqrt{2}, 0)$

Ecuación de la elipse:

$$\frac{x^2}{18} + \frac{y^2}{16} = 1$$

Ecuación general: $8x^2 + 9y^2 = 144$

Problema 4 Encontrar los puntos de la recta

$$r : \frac{x-1}{2} = \frac{y+1}{3}$$

que se encuentran a una distancia 7 del punto $P(4, 2)$.

Solución:

Construimos la circunferencia de centro P y radio 7:

$$(x-4)^2 + (y-2)^2 = 49$$

Cortamos r con esta circunferencia; para ello ponemos r en paramétricas:

$$r : \begin{cases} x = 1 + \lambda \\ y = -1 + 3\lambda \end{cases} \text{ y sustituimos en la circunferencia:}$$

$$(1 + \lambda - 4)^2 + (-1 + 3\lambda - 2)^2 = 49 \implies 10\lambda^2 - 24\lambda - 31 = 0 \implies \lambda_1 = -0,931, \lambda_2 = 3,331$$

$$\begin{cases} \lambda_1 = -0,931 \implies P_1(0,069; -3,792) \\ \lambda_2 = 3,331 \implies P_2(4,331; 8,992) \end{cases}$$

Problema 5 Se va a construir un circuito para carreras de coches, la suma de las distancias de un punto de esta curva a dos puntos fijos es constante e igual a 10 km. Los dos puntos fijos son el $(3,0)$ y el $(0,3)$, tomando las dimensiones en kilómetros. Se pide:

- Identifica de que curva se trata.
- Calcular la ecuación de esta curva.
- Calcular las tangentes a la curva en los puntos en los que corta la recta $x = 2$

Solución:

- Se trata de una elipse por definición.
- Sea $P(x, y)$ un punto de esa elipse, sean $F(3, 0)$ y $F'(0, 3)$ sus focos, se tiene que cumplir:

$$|\overrightarrow{FP}| + |\overrightarrow{F'P}| = 10 \implies \sqrt{(x-3)^2 + y^2} + \sqrt{x^2 + (y-3)^2} = 10$$

$$(x - 3)^2 + y^2 = (10 - \sqrt{x^2 + (y - 3)^2})^2 \implies$$

$$3x - 3y + 50 = 10\sqrt{x^2 + (y - 3)^2} \implies$$

$$(3x - 3y + 50)^2 = 100(x^2 + (y - 3)^2) \implies$$

$$91x^2 + 91y^2 + 18xy - 300x - 300y - 1600 = 0$$

- c) Si $x = 2 \implies 91y^2 - 264y - 1836 = 0 \implies y_1 = -3,2696$ e $y_2 = 6,1707$. Los puntos en los que tenemos que calcular las tangentes son $Q(2; 6,1707)$ y $H(2; -3,2696)$. Calculamos la derivada de la función:

$$182x dx + 182y dy + 18y dx + 18x dy - 300 dx - 300 dy = 0 \implies$$

$$(182x + 18y - 300) dx + (182y + 18x - 300) dy = 0 \implies$$

$$(182y + 18x - 300) dy = -(182x + 18y - 300) dx \implies$$

$$\frac{dy}{dx} = -\frac{182x + 18y - 300}{182y + 18x - 300}$$

La pendiente m_1 de la recta tangente en $Q(2; 6,1707)$ es:

$$m_1 = -\frac{182 \cdot 2 + 18 \cdot 6,1707 - 300}{182 \cdot 6,1707 + 18 \cdot 2 - 300} = -0,2038$$

La ecuación de la recta tangente en este punto es:

$$y - 6,1707 = -0,2038(x - 2)$$

La pendiente m_2 de la recta tangente en $H(2; -3,2696)$ es:

$$m_2 = -\frac{182 \cdot 2 + 18 \cdot (-3,2696) - 300}{182 \cdot (-3,2696) + 18 \cdot 2 - 300} = 0,006$$

La ecuación de la recta tangente en este punto es:

$$y + 3,2696 = 0,006(x - 2)$$

